











Vraag 1		Bij deze sommen mag je geen uitrekenpapier gebruiken!	
Vorig jaar deden er 243 mensen mee aan een hardloopwedstrijd bij Porto Marie. Dit jaar is dat $\frac{1}{6}$ deel minder. Hoeveel mensen doen er dit jaar ongeveer mee? 	A	180	
	B	300	
	C	150	
	D	200	
Vraag 2			
De vader van Giurvanni houdt alles zeer nauwkeurig bij. Zo heeft hij bijvoorbeeld uitgerekend dat tijdens de kampeervakantie van 4 weken het gemiddeld 1 op de 7 dagen regende. Hoeveel dagen regende het in die vakantie? 	A	3	
	B	7	
	C	28	
	D	4	
Vraag 3			
Aan de Gran Marcha doen dit jaar 3.937 mensen mee. De mensen vertrekken in groepen van gemiddeld 50 personen. Hoeveel groepen zijn er ongeveer in de optocht? 	A	800	
	B	170	
	C	80	
	D	65	
Vraag 4			
Een verlengsnoer van 25 meter kost 30 gulden. Hoeveel gulden betaal je voor 5 meter? 	A	Naf. 5,-	
	B	Naf. 45,-	
	C	Naf. 6,-	
	D	Naf. 6,20	
Vraag 5			
Op 1 januari 2011 staat de kilometerteller van onze auto op 70.181 km. Op 1 januari 2012 staat de teller op 90.180 km. Hoeveel km. hebben wij in 2011 gereden? 	A	20.001	
	B	19.000	
	C	19.999	
	D	20.000	

Vraag 6		Bij deze sommen mag je geen uitrekenpapier gebruiken!	
In een doos spijkers van 0,5 kg zitten gemiddeld 316 spijkers. Hoeveel spijkers heb ik ongeveer als ik 2,5 kg spijkers koop?		A	15.000
		B	150
		C	1.500
		D	7.500
Vraag 7			
In de autorally Parijs - Dakar wordt flink doorgereden. Dag 1: 500 km. Dag 2: 399 km. Dag 3: 491 km. Dag 4: 510 km. Dag 5: 400 km. Hoeveel km is er ongeveer in 5 dagen gereden?		A	2.261 km
		B	2.250 km
		C	2.558 km
		D	2.300 km
Vraag 8			
Ons middagje aan het strand is compleet mislukt. Gemiddeld elke 29 sec verscheen er een nieuwe wesp. Na 15 minuten zijn we in de auto gestapt. Ongeveer hoeveel wespen hebben jullie leuke middag verpest?		A	30
		B	20
		C	40
		D	35
Vraag 9			
Mijn oom heeft een auto op afbetaling gekocht. De auto kost 19.950 gulden. Mijn oom betaalt elke maand 500 gulden. Hoeveel maanden moet hij betalen?		A	8
		B	400
		C	80
		D	40
Vraag 10			
Een bakje pitloze druiven kost Naf. 1,49. Je moet ook een tube tandpasta van Naf. 2,20 kopen. Je hebt Naf. 11,20 op zak. Hoeveel bakjes druiven kun je kopen?		A	5
		B	4
		C	7
		D	6

SCHATTEND REKENEN

blad 1 kaart 36	1	2	3	4	5	6	7	8	9	10
	D	D	C	C	C	C	D	A	D	D