

$$\text{Sun} + \text{Moon} + \text{Rainbow} + \text{Lightning} = 180$$

$$\text{Rainbow} = \text{Sun} + \text{Sun}$$


$$\text{Sun} = \text{Lightning} + \text{Lightning}$$

$$\text{Lightning} = \text{Moon} + \text{Moon}$$

Op de achterkant zie je **REKENRAADSELS 5**


Reken uit wat de waarde is van de 4 vormen.

De waarde van




is ...

De waarde van



is ...

De waarde van




is ...

De waarde van




is ...

## Antwoorden Rekenraadsel Blad 5 Kaart 50

De waarde van  is 24

De waarde van  is 12

De waarde van  is 48

De waarde van  is 96