

Vraag 1

Meneer Simoons heeft een terrein gekocht.
Het ligt in Brakkeput.
Het is een vierkant terrein.
De omtrek is 280 meter.



Wat is dan de oppervlakte?

A	1.400 m ²
B	4.900 m ²
C	490 m ²
D	490 dam ²

Vraag 2

Romy heeft gespaard voor een Apple iPod Touch.
De iPod kost Naf. 378,-
Ze heeft een half jaar lang elke
maand **hetzelfde** bedrag gespaard.




Wat spaarde ze elke maand?

A	Naf. 63,-
B	Naf. 61,-
C	Naf. 63,50
D	Naf. 65,-

Vraag 3

Op haar iPod heeft ze 120 leuke liedjes gezet.
De gemiddelde duur van een liedje is 4 minuten.

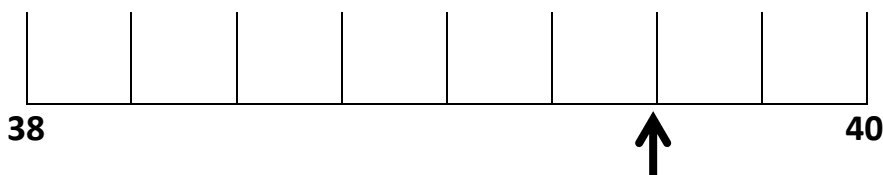


Hoeveel uur is dat samen?

A	480 uur
B	30 uur
C	3 uur
D	8 uur

Vraag 4

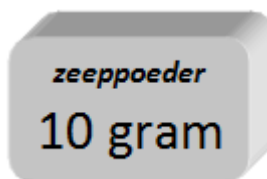
Welk getal moet er bij de pijl staan?



A	39,2
B	38,6
C	39,5
D	39,8

Vraag 5

In de winkel koopt mevrouw Schoop een doos met tabletten.
In deze tabletten zit zeepoeder.
Mevrouw Schoop gebruikt ze voor de afwasmachine.
Er zitten 50 tabletten in de doos.



Wat is het gewicht van de 50 tabletten in kilo's?

A	50 kilo
B	5 kilo
C	0,5 kilo
D	0,05 kilo

Vraag 6

Kim kookt vandaag pasta voor 3 personen.
Op het pak staat dat 750 gram pasta genoeg is voor 5 personen.

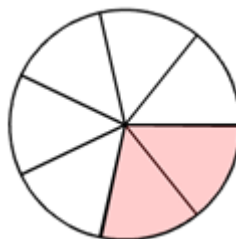


Hoeveel gram pasta heeft Kim nodig?

A	250 gram
B	150 gram
C	450 gram
D	300 gram

Vraag 7

Bij Panaderia ISA hebben ze een heerlijke taart.
1/3 deel van de taart kost Naf. 7,-



Hoeveel kost dan een 2/7 deel van die taart?

A	Naf. 6,-
B	Naf. 3,-
C	Naf. 4,-
D	Naf. 5,-

Vraag 8

Er staan bij Toko Rimon 16 kratten met cola.
In elk krat zitten 24 flesjes.




Hoeveel flesjes zijn dat in totaal?

A	483
B	438
C	348
D	384

Vraag 9

Clint woont in Fuik en speelt met een vriendje bij de Tafelberg.
Ze vinden samen 34 prachtige stenen.
Clint vindt er 4 meer dan zijn vriendje.



Hoeveel stenen heeft Clint gevonden?

A	14
B	17
C	19
D	15

Vraag 10

De groepen 6, 7 en 8 van onze school gaan vandaag naar het SDK om te zwemmen.
Dat zijn in totaal 280 kinderen.
Kijk in het hokje hiernaast.
Daarin zie je hoeveel kinderen een zwemdiploma hebben.

Hoeveel procent van de kinderen heeft zwemdiploma C?

Aantal kinderen

Diploma A	139
Diploma B	71
Diploma C
geen diploma	14

A	20 %
B	56 %
C	28 %
D	46 %

REDACTIE										
blad 6 kaart 34	1	2	3	4	5	6	7	8	9	10
	B	A	D	C	C	C	A	D	C	A