

Sean is op vakantie in België geweest. Daar heeft hij deze tabel gevonden. Alle afstanden zijn in kilometers.

Maak gebruik van de tabel om de eerste vier vragen te maken.



	Antwerpen	Aarlen	Bastenaken	Brugge	Brussel	Charleroi	Gent	Leuven	Luik	Namen	Oostende
Antwerpen		228	211	105	61	117	65	72	127	113	134
Aarlen	228		40	294	187	170	282	185	128	131	302
Bastenaken	211	40		282	149	159	269	158	87	90	296
Brugge	105	294	282		97	152	56	128	196	169	29
Brussel	61	187	149	97		61	57	29	97	63	114
Charleroi	117	170	159	152	61		114	78	95	39	167
Gent	65	282	269	56	57	114		91	158	129	68
Leuven	72	185	158	128	29	78	91		75	61	144
Luik	127	128	87	196	97	95	158	75		64	212
Namen	113	131	90	169	63	39	129	61	64		185
Oostende	134	302	296	29	114	167	68	144	212	185	



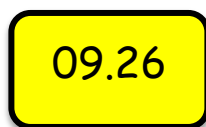
1. Wat is de afstand in kilometers van Brussel naar Aarlen?
2. Wat is de afstand in kilometers van Bastenaken naar Gent?
3. Wat is de kortste afstand in de tabel? Van naar
4. Wat is de langste afstand in de tabel? Van naar
5. Een container gevuld met wasmachines weegt 4000 kilo. Bij Omni halen ze 75 % van de lading er uit. De container weegt nu nog 2500 kilo.
Wat weegt de lege container?

6. Bij een dierenwinkel op Veeris koopt Jaylon voer voor zijn vissen. Hij heeft 150 gram nodig. **Wat moet hij betalen?**

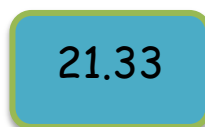
7. Mijn moeder maakt de lekkerste cupcakes die er zijn. Meestal maakt ze 15 cupcakes in één keer. Daar heeft ze 300 gram meel voor nodig. Ze heeft vandaag nog maar 240 gram meel.
Hoeveel cupcakes kan ze daarmee maken?

vissenvoer
240 gram voor Naf. 2,-

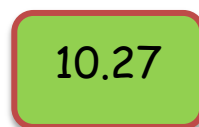
8. Welke tijd is hetzelfde als de tijd op de ronde klok?



A



B



C



D

9. Sue-Ann koopt een T-shirt bij Street-One. Het T-shirt kost Naf. 35,- Ze krijgt 15 % korting. **Wat moet Sue-Ann voor haar T-shirt betalen?**

10. Mijn oom gaat met toeristen een tocht maken met buggy's. Ze vertrekken om 09.15 uur. Ze rijden twee uur en veertig minuten.
Hoe laat zijn ze weer terug?

